





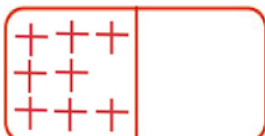



EXERCICE 2 POUR COMPTER AVEC LES DOMINOS MATERNELLE GS

Maternelle Cycle 1

Niveau 3

Compter 5 à 10

Compte les formes sur chaque domino et écris à côté le chiffre correspondant.

	5		
			
			
			

Tu es



de ton travail



Imprimer la fiche d'activité " compter sur les dominos exercice 2 "



[cliquer pour imprimer la fiche](#)

Lire la consigne à l'enfant. Vérifier qu'il a vraiment compris.

L'enfant doit :

compter le nombre d'objets figurant sur chaque domino.

Ecrire le chiffre correspondant.



Au besoin, répéter la consigne ou donner plus d'explications.

Laisser le temps à l'enfant de réfléchir.

Ne pas hésiter à écrire les chiffres de 1 à 10 sur une feuille blanche et laisser l'enfant retrouver les bons chiffres.

1 2 3 4 5 6 7 8 9

Lui demander d'évaluer son travail en coloriant la tête correspondant à son degré de satisfaction.



Revoir l'exercice ensemble et félicitez votre enfant pour son travail.

Si l'enfant ne peut pas réaliser l'exercice, penser à le féliciter et pour ne pas terminer sur un

échec, proposer à l'enfant un exercice plus facile qu'il est capable de réaliser.

Récompensez votre enfant en imprimant un [diplôme](#)



 [Imprimer la page](#)

Exercice 2 pour compter avec les dominos Maternelle GS